







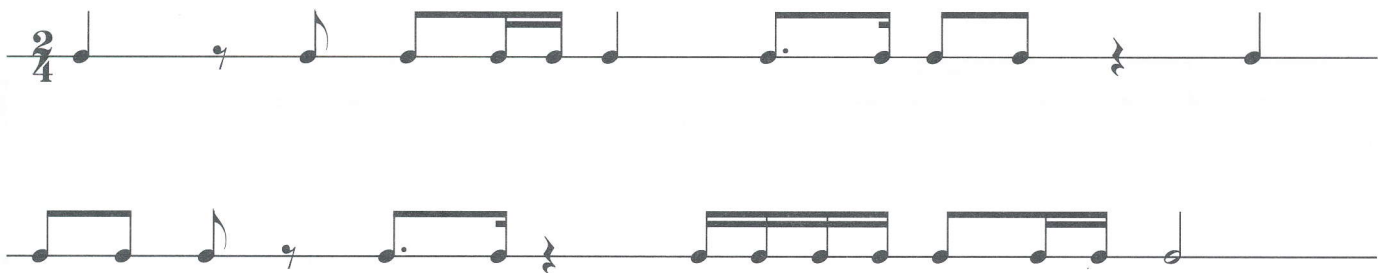


LES 26

A) Hoe lang duren volgende ritmes in de maat $\frac{2}{4}$?


1.		
2.		
3.		
4.		
5.		
6.		
7.		
8.		

B) Plaats maatstrepen.



LES 27

A) Schrijf in de fasleutel.



B) Schrijf de gegeven fragmenten over in de andere sleutel.

LES 28

A) Plaats de ritmen op de juiste plaats in de kaders.

1/4-TEL	1/2-TEL	1 TEL	2 TELLEN





B) Vul aan; gebruik telkens een ander ritme.

1n = vul aan met 1 noot

1r = vul aan met 1 rust

LES 29

A) Schrijf een octaaf hoger in de solseutel.



B) Noteer een octaaf lager in de fassleutel.



LES 30

A) Bouw het gevraagde op de gegeven noot.

gr 3 ↗ gr 2 ↗ kl 3 ↘ kl 2 ↗

gr 2 ↗ kl 3 ↗ gr 2 ↗ kl 2 ↘

B) Schrijf een grote secunde hoger.

C) Benoem en verklaar.

	BENOEM	VERKLAAR
b		
#		
♯		

D) Schrijf de toonladder van sol groot en omcirkel de tonica en de dominant.

E) Schrijf de toonladder van fa groot en noteer ook de gronddrieklank.