

# LES 31



A) Schrijf zonder koppeltokens.

B) Plaats maatstrepen.

# LES 32

A) Vul aan.

B) Noteer drie mogelijke ritmes in elke cel van onderstaand kader.

	$\frac{2}{4}$	$\frac{3}{4}$	$\frac{6}{8}$
1 TEL			
2 TELLEN			
3 TELLEN			

## LES 33

A) Noteer in de fasleutel.




B) Geef naam, inhoud en hoedanigheid.




## LES 34

A) Schrijf in de fasleutel.





B) Schrijf het stukje uit A) een reine kwart hoger.



C)

Geef naam, inhoud en hoedanigheid.



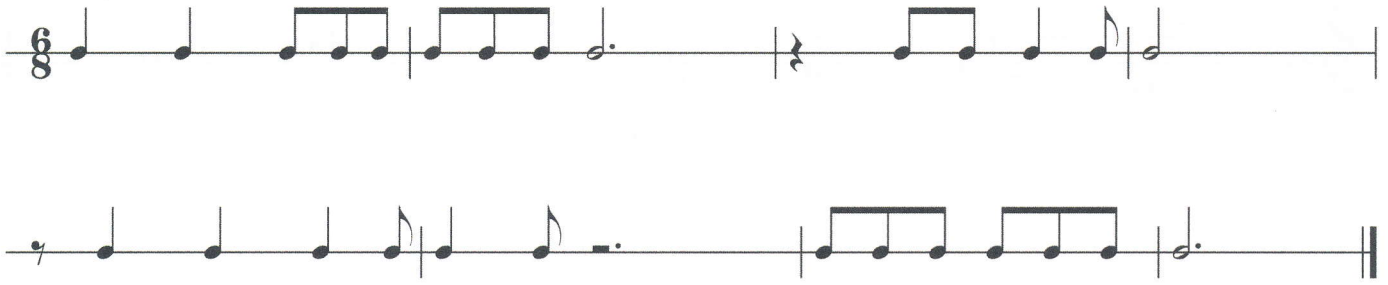
## LES 35

A)

Plaats de maatstrepen.



B) Verbeter.



## LES 36

A) Noteer telkens de aanverwante toonladder. Duid in alle toonladders de hele en halve tonen aan.

B) Omcirkel in bovenstaande opgave in de grote tertstoonladder de leidtoon.